

ỦY BAN NHÂN DÂN XÃ VỤ GIA
TRƯỜNG TIỂU HỌC NGUYỄN THỊ BẢY

Chào mừng thầy cô và các em đến với tiết học hôm nay

Giáo viên : Đặng Thị Mỹ Hiệp

Lớp : 1D



Khởi động

Nghe và vận động theo bài hát



VTV KÊNH GIẢI TRÍ
TỔNG HỢP



Thứ sáu ngày 3 tháng 4 năm 2026

Toán

Phép trừ số có hai chữ số cho
số có hai chữ số (Tiết 3)



1

Đặt tính rồi tính

a)

$$47 + 20$$

$$\begin{array}{r} 47 \\ + \\ \hline 20 \\ \hline 67 \end{array}$$

$$67 - 20$$

$$\begin{array}{r} 67 \\ - \\ \hline 20 \\ \hline 47 \end{array}$$

$$67 - 47$$

$$\begin{array}{r} 67 \\ - \\ \hline 47 \\ \hline 20 \end{array}$$

1

Đặt tính rồi tính

b)

$$56 + 41$$

$$\begin{array}{r} 56 \\ + \\ \hline 41 \\ \hline 97 \end{array}$$

$$97 - 56$$


$$\begin{array}{r} 97 \\ - \\ \hline 56 \\ \hline 41 \end{array}$$

$$97 - 41$$

$$\begin{array}{r} 97 \\ - \\ \hline 41 \\ \hline 56 \end{array}$$



2 Bạn nào cầm thẻ ghi phép tính có kết quả lớn nhất?




$$65 - 41$$

Nam

24

29



$$89 - 60$$

Mai

28

31



$$58 - 30$$

Việt

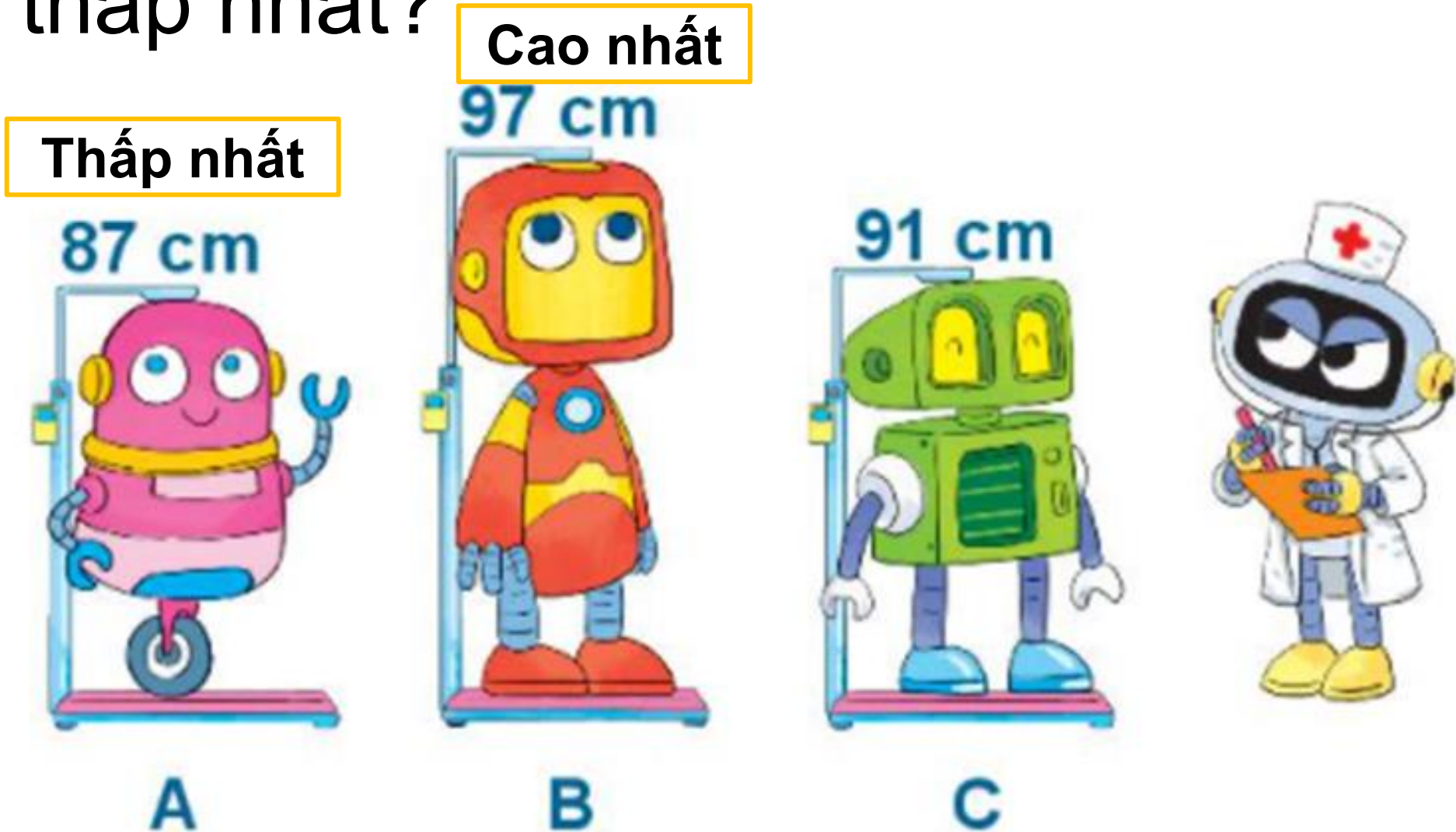


$$67 - 36$$

Rô-bốt



3 Đo chiều cao ba bạn rô-bốt được kết quả như hình vẽ. Hỏi bạn nào cao nhất? Bạn nào thấp nhất?






Trò chơi “ Hái nấm

Hái nấm

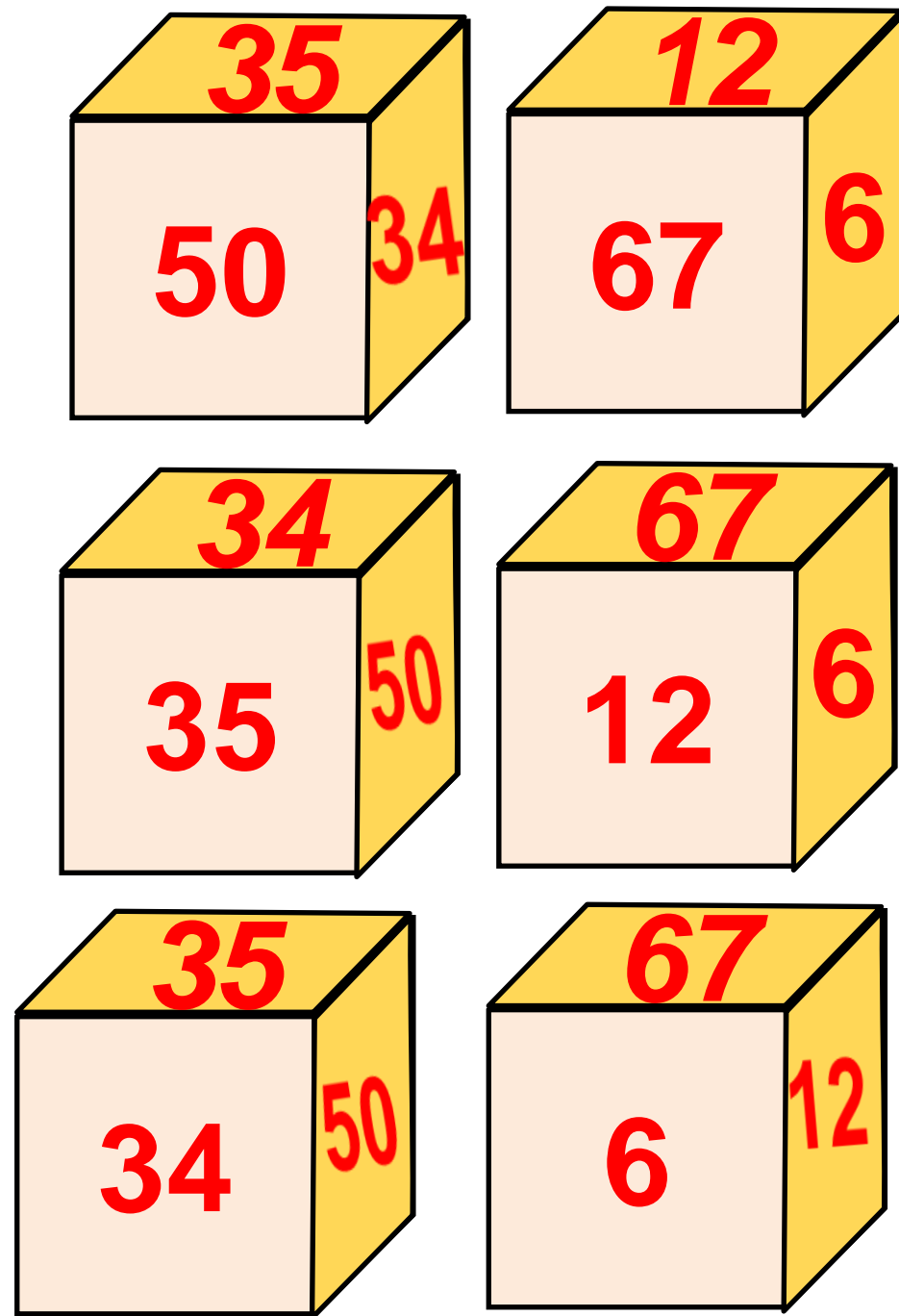
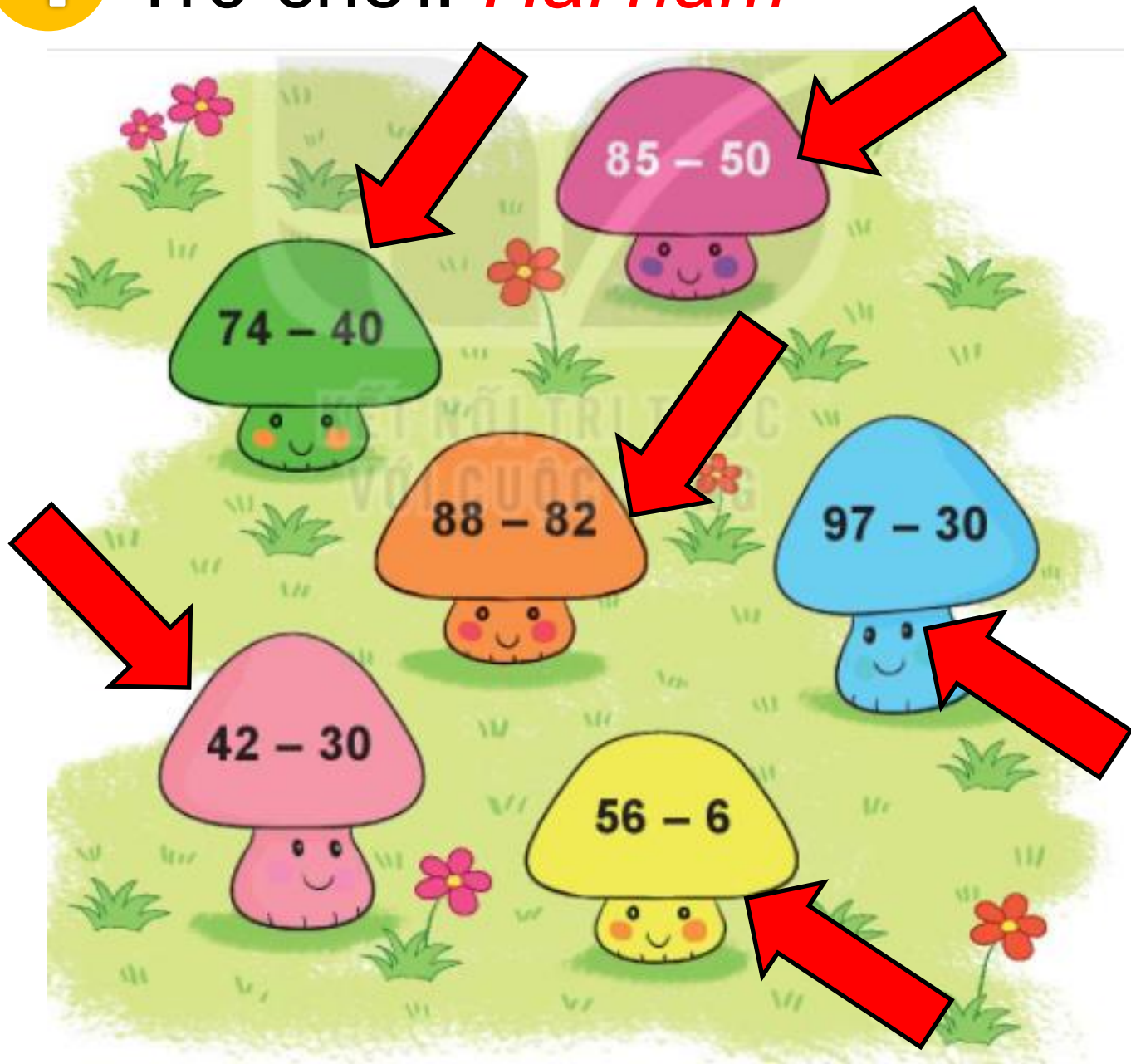
Dán các số: 6, 12, 34, 35, 50, 67 vào sáu mặt của con xúc xắc.

Cách chơi:

- Chơi theo nhóm.
- Khi đến lượt, người chơi gieo xúc xắc để nhận được một số ở mặt trên xúc xắc. Hái cây nấm ghi phép tính có kết quả bằng số nhận được.
- Trò chơi kết thúc khi hái được 4 cây nấm.



4 Trò chơi: *Hái nấm*







**Tạm biệt và
hẹn gặp lại**